


Prénom : \_\_\_\_\_

Date : \_\_\_\_\_

Encore des périmètres ! CE2


Calcule la longueur de fil nécessaire pour décorer le tour de chaque figure et complète la réponse (écris tes calculs au dos de cette feuille).

La mesure du tour d'une figure est le .....  
(l'abréviation est ..... )




Maison

P = \_\_\_\_\_



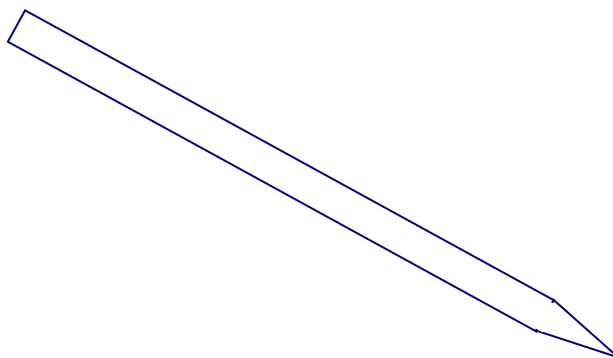
Etoile

P = \_\_\_\_\_



Lettre

P = \_\_\_\_\_



Stylo

P = \_\_\_\_\_


Prénom : \_\_\_\_\_

Date : \_\_\_\_\_

Encore des périmètres ! CM1


Calcule la longueur de fil nécessaire pour décorer le tour de chaque figure et complète la réponse (écris tes calculs au dos de cette feuille).

La mesure du tour d'une figure est le .....  
(l'abréviation est ..... )




Maison

P = \_\_\_\_\_



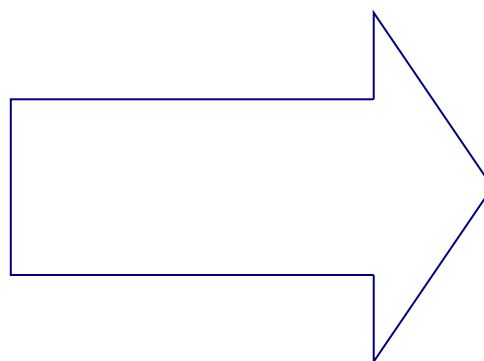
Croix

P = \_\_\_\_\_



Lettre

P = \_\_\_\_\_



Flèche

P = \_\_\_\_\_