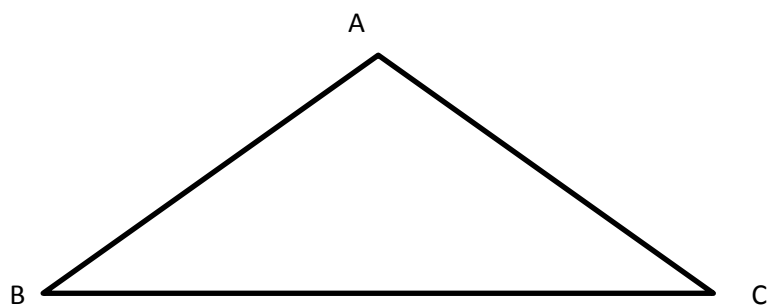


Prénom : Date :

Décrire et reproduire un triangle





Le triangle acôtés. Le triangle a sommets.

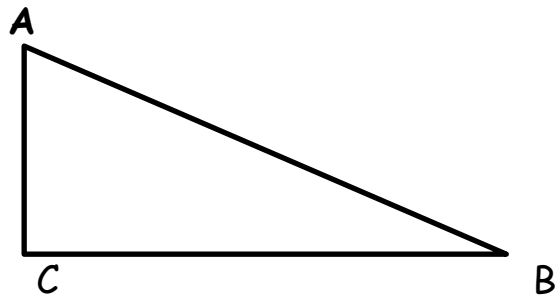
Le triangle aangles.

A toi de jouer !

1 /Trace deux triangles différents 2/Trace un triangle qui a un côté de 4 cm




Le triangle rectangle



1/Observe bien les angles de ce triangle. Qu'a-t-il de particulier ?

.....



2 /Trace le segment HF. Combien de triangles vois-tu ?.....

Marque les angles droits de chaque triangle.

3/ Trace deux triangles rectangles différents. Utilise ton équerre ou ton gabarit.

