

Les nombres de 0 à 99 (1)


1. Ecris la somme que possède chaque enfant en centimes d'euros:

Jules

10c 10c 10c 10c 10c 10c 10c 10c

.....

brioche 80 c



Moussa

20c 20c 20c 20c


.....

Quentin


10c 10c 10c 10c 10c 10c 10c 10c 2c 2c

.....

pain aux raisins 85 c



tartelette 95 c



Leila

20c 20c 20c 20c 10c


.....

Qui peut acheter le pain aux raisins ?


2. Complète la suite numérique:

87 — — — 91 92 — — 95


- 3.
- Pour chaque dessin :
- colorie en **rouge** la feuille du plus grand nombre ;
 - colorie en **vert** la feuille du plus petit nombre.



1



2




3

4. Fais sur ton cahier les exercices dans le livre
CLR:47-49 p.17


Les nombres de 0 à 99 (2)

1. Entoure les pièces nécessaires pour payer chaque achat:



80 c

50c 20c 20c 10c 10c 10c



75 c

20c 20c 50c 5c 5c 10c 10c

Complète.

80 = 75 =

2. Calcule:

80 + 6 = ...	20 + 20 + 20 + 20 = ...	70 + 15 = ...
80 + 8 = ...	70 + 10 = ...	70 + 18 = ...
80 + 2 = ...	60 + 20 = ...	60 + 13 = ...

3 Écris le signe qui convient : < , > ou = .

60 + 13	70 + 3
30 + 30 + 8	70 + 18
20 + 20 + 20 + 20	4 + 20
70 + 10	80

4. Ecris le nombre de paquets de dix.

79 contient.....paquets de dix.
84 contient.....paquets de dix.
48 contient.....paquets de dix.