

1 Groupe les billes par 10, puis complète.



dizaines	unités

2 Dessine le bon nombre de billes.

dizaine	unités
1	7

3 Relie.

3 dizaines
6 unités

5 dizaines
3 unités

7 dizaines
4 unités

4 dizaines
7 unités

dizaines	unités
5	3



dizaines	unités
3	6

dizaines	unités
4	7

dizaines	unités
7	4

4 1 calot vaut 10 billes. Quelle est la collection qui a le plus de valeur ?


Celle de Karim... ...ou celle de Sonia ?






Réponds.
La collection de a plus de valeur que celle de

5 Boris a beaucoup de pièces de 1 € dans sa tirelire. Il fait des échanges avec son papa : 10 pièces de 1 € contre 1 billet de 10 €.


Dessine la nouvelle collection de Boris avec le plus de billets possible, puis complète.



Billets de 	Pièces de 

dizaines	unités


1 Écris la somme en chiffres, puis en lettres.



d	u

€

..... euros.

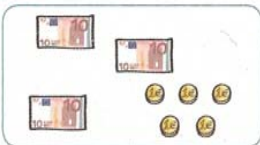


d	u

€

..... euros.

2 Écris les nombres qui manquent.



= 30 +


3 Écris le nombre qui manque et dessine-le avec des billets et des pièces de monnaie.

..... = 20 + 7

4 Complète le tableau, comme dans l'exemple.

42	40 + 2	4 dizaines et 2 unités	quarante-deux
38 dizaines et unités
.....	50 + 1 dizaines et unité
.....	7 dizaines et 6 unités
..... dizaines et unités	quatre-vingt-neuf

5 Place les nombres suivants sur l'axe, comme dans l'exemple : 16 27 32 23



6 Complète les phrases.

- Dans le nombre 47, le chiffre des unités est .
- Dans 74, le chiffre des dizaines est .

