

Date: _____

Décomposer les nombres jusqu'à 99

1. **Observe** et **complète**:

| 91 | 90+1 | 80+11 |
|----|------|-------|
| 92 | | |
| | 90+8 | |
| | | 80+17 |
| | 90+6 | |

2. **Colorie** en **vert** l'étiquette du plus petit nombre et en **bleu** celle du plus grand.

70+12

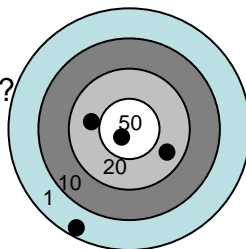
80+6

quatre-vingt-douze

80+16

60+18

3. Combien de points **Lilou** a-t-elle marqué?

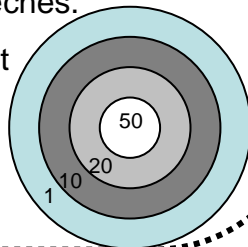


.....+.....+.....+.....=

4. **Jordan** a marqué 90 points avec 4 flèches.

Dessine des points noirs dans la cible et **complète**:

90=+.....+.....+.....



Date: _____

Décomposer les nombres jusqu'à 99

1. **Observe** et **complète**:

| 91 | 90+1 | 80+11 |
|----|------|-------|
| 92 | | |
| | 90+8 | |
| | | 80+17 |
| | 90+6 | |

2. **Colorie** en **vert** l'étiquette du plus petit nombre et en **bleu** celle du plus grand.

70+12

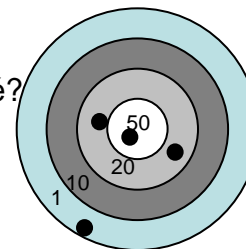
80+6

quatre-vingt-douze

80+16

60+18

3. Combien de points **Lilou** a-t-elle marqué?



.....+.....+.....+.....=

4. **Jordan** a marqué 90 points avec 4 flèches.

Dessine des points noirs dans la cible et **complète**:

90=+.....+.....+.....

