

Nom :

Date :

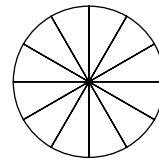
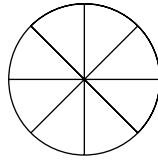
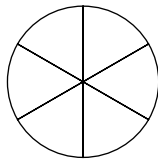
Les fractions (1)

Manuel, pp. 34-35

ACTIVITÉ DE DÉCOUVERTE

a. Observe ces trois gâteaux.

Choisis le partage le plus pratique et colorie $\frac{3}{8}$; $\frac{7}{12}$; $\frac{5}{6}$.



b. À ton avis, que représente $\frac{6}{6}$? $\frac{8}{8}$? $\frac{12}{12}$?

.....

.....

.....