



## Les Masses - Comparaison et mesure

**Observe et complète.**

L'ours est plus lourd que .....

Le ballon est plus lourd que .....



**Range** ces trois objets du plus lourd au plus léger.



1. ....

2. ....

3. ....

### Je m'entraîne

**1 Observe et coche.**





La banane et l'orange ont-elles la même masse ?

☐ oui

☐ non

**2 Entoure le fruit le plus lourd.**



**Range** ces fruits du plus lourd au plus léger.

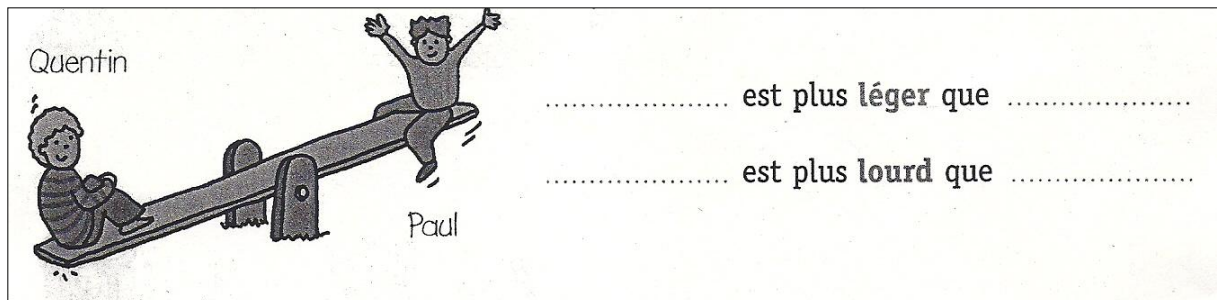
1. ....

2. ....


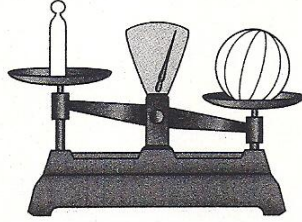
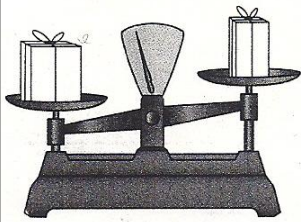
3. ....

Prénom: .....

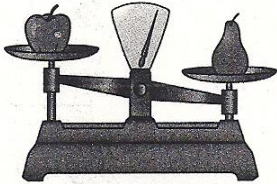
Date: .....



**Colorie, sur chaque balance, l'objet le plus lourd.**



**Observe et complète.**



pomme



poire



banane

La poire est plus ..... que la pomme.

La poire est plus ..... que la banane.

