

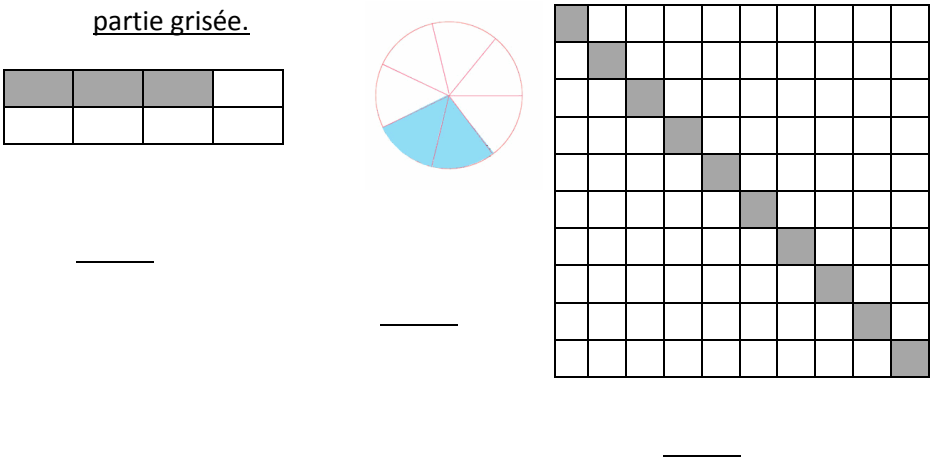
Prénom :

Les fractions

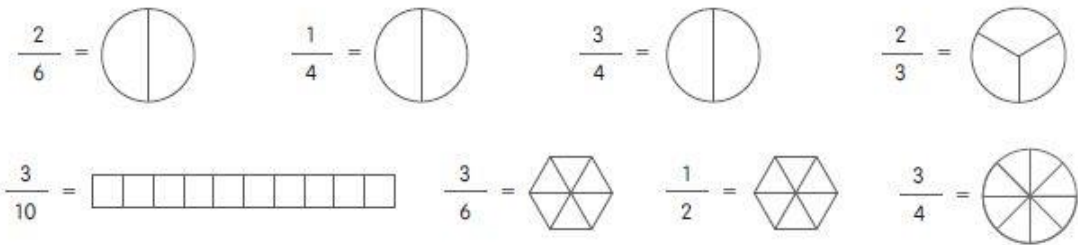
Ex1 : Complète en donnant le nom des éléments d’une fraction.

$\frac{3}{4}$
.....

Ex2 : Ecris sous forme de fraction la partie grisée.



Ex3 : Colorie la partie correspondant à la fraction.



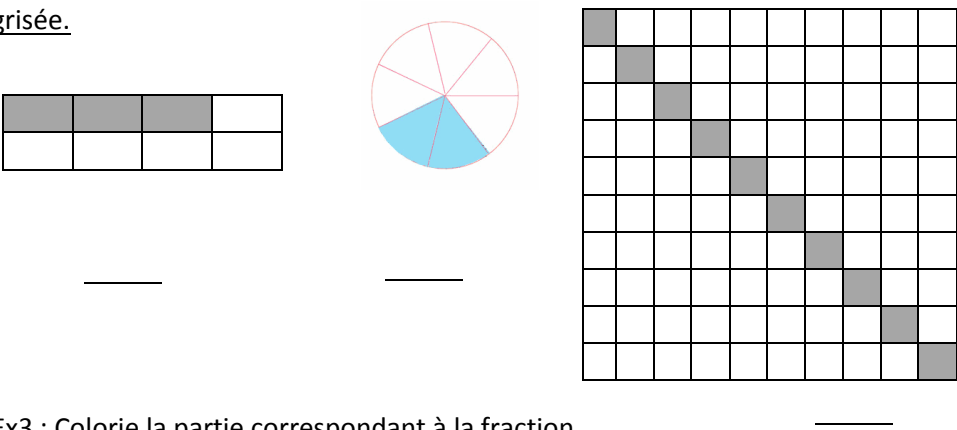
Prénom :

Les fractions

Ex1 : Complète en donnant le nom des éléments d’une fraction.

$\frac{3}{4}$
.....

Ex2 : Ecris sous forme de fraction la partie grisée.



Ex3 : Colorie la partie correspondant à la fraction.

