

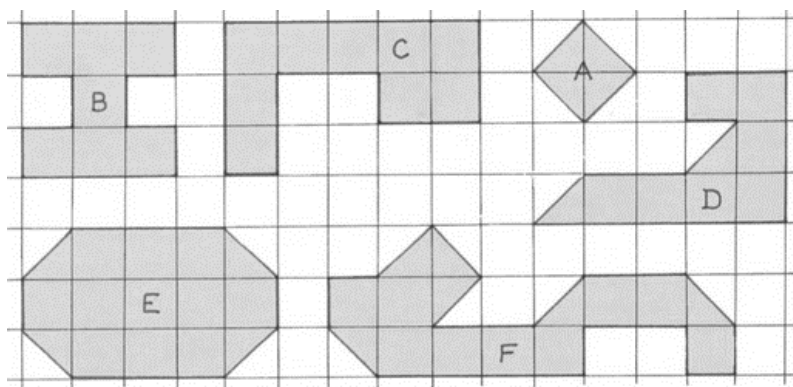
Nom :

Date :/...../ 20....


Evaluation : Calcul d'aires

Exprimer l'aire d'une surface à l'aide d'une unité d'aire.

1 Calcule l'aire des figures suivantes.



 = 1

 = 1/2

A =

B =

C =

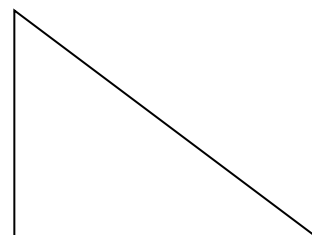

D =

E =

F =

Calculer l'aire d'un carré, d'un rectangle, d'un triangle.

2 Calcule l'aire des figures suivantes.



Formule :

Formule :

Formule :

Calcul :

Calcul :

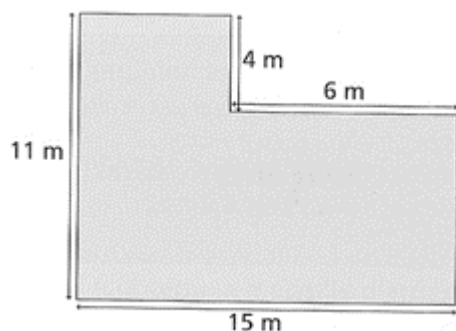
Calcul :

3 Complète le tableau.

Rectangle	Longueur	Largeur	Aire
A	9 dm	8 dm	
B	15 cm	4 cm	

Carré	côté	Aire
A	6 dm	
B	12 cm	

4 Calcule la surface de cet appartement.



Calculs

Réponse :