

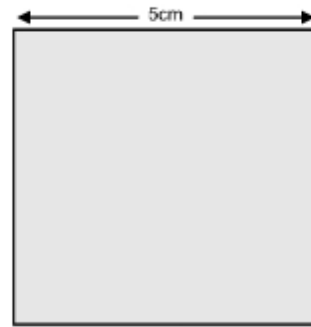
Le périmètre du carré et du rectangle

Le périmètre du carré

$$P = \text{côté} \times 4$$

$$P = 5 \times 4 = 20$$

$$P = 20 \text{ cm}$$

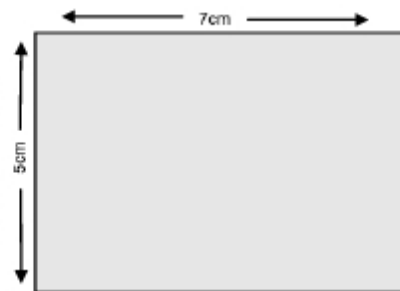


Le périmètre du rectangle

$$P = (\text{largeur} + \text{longueur}) \times 2$$

$$P = (7 + 5) \times 2 = 24$$

$$P = 24 \text{ cm}$$



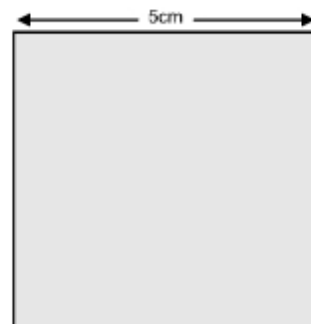
Le périmètre du carré et du rectangle

Le périmètre du carré

$$P = \text{côté} \times 4$$

$$P = 5 \times 4 = 20$$

$$P = 20 \text{ cm}$$



Le périmètre du rectangle

$$P = (\text{largeur} + \text{longueur}) \times 2$$

$$P = (7 + 5) \times 2 = 24$$

$$P = 24 \text{ cm}$$

