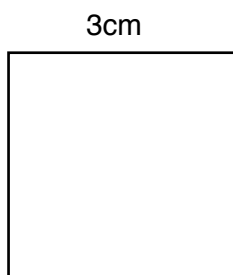


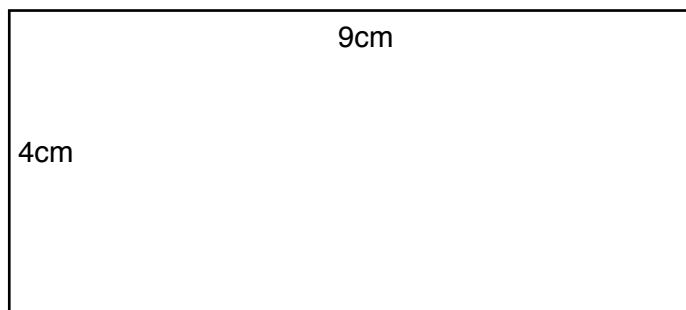
Exercice 1 - Calcule le périmètre de ce carré.



Calcul :

Le carré a un périmètre de _____ cm


Exercice 2 - Calcule le périmètre de ce rectangle.



Calcul :

Le rectangle a un périmètre de _____ cm

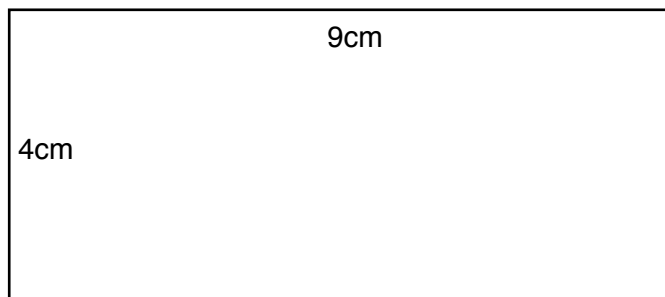
Exercice 1 - Calcule le périmètre de ce carré.



Calcul :

Le carré a un périmètre de _____ cm

Exercice 2 - Calcule le périmètre de ce rectangle.



Calcul :

Le rectangle a un périmètre de _____ cm