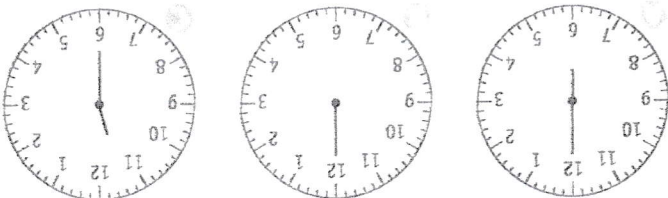



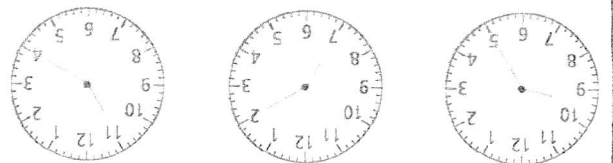
Écris l'heure indiquée par chaque horloge.



Je me  
corrige seul



\* Quelle heure est-il ?



5 \* Écris de deux façons différentes l'heure indiquée sur ces horloges.

Ex : 10 h 55 et 11 heures moins cinq




---

---

---

---

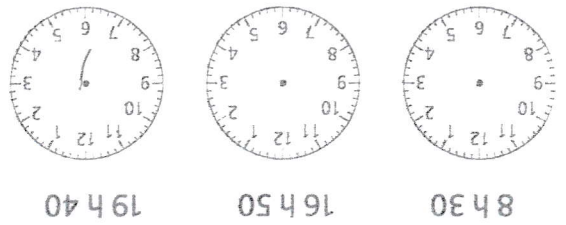
---

---

Le maître  
corrige

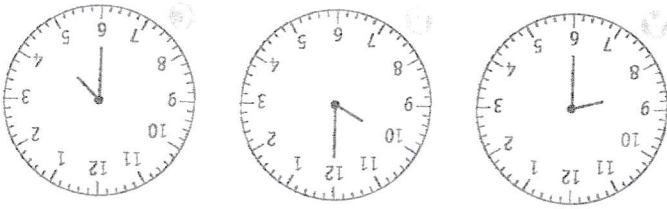


7 Place les aiguilles sur les horloges en fonction des heures indiquées.



8 h 30 16 h 50 19 h 40

2 Écris l'heure indiquée par chaque horloge.



Heure du matin	8 h 15
Heure de l'après-midi	20 h 15
	10 h 45
	20 h 50
	6 h 30
	23 h 45
	21 h 40
	3 h 20

6 \* Complète ce tableau.