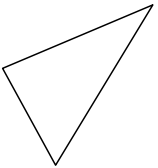
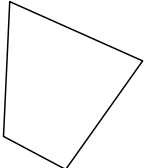
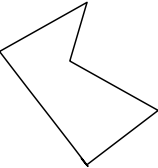
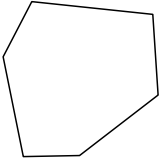
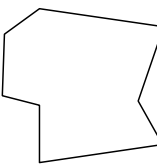


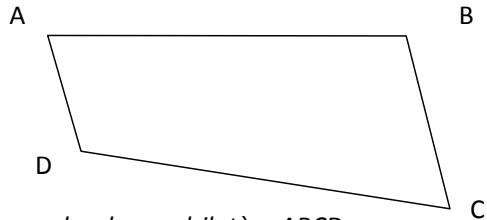
Les polygones

♥ Un polygone est
.....


♥ Le nom du polygone est défini en fonction du nombre de côtés qu'il possède.

				
..... côtés côtés côtés côtés côtés

♥ On appelle la droite qui non consécutifs.
Exemple :



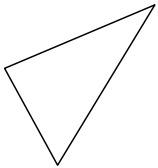
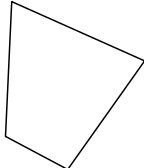
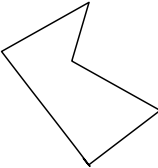
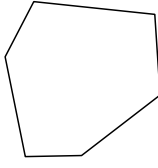
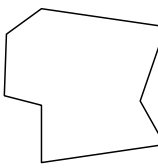
AC et BD sont les diagonales du quadrilatère ABCD.



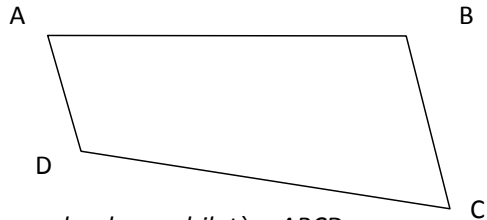
Les polygones

♥ Un polygone est
.....

♥ Le nom du polygone est défini en fonction du nombre de côtés qu'il possède.

				
..... côtés côtés côtés côtés côtés

♥ On appelle la droite qui non consécutifs.
Exemple :



AC et BD sont les diagonales du quadrilatère ABCD.

