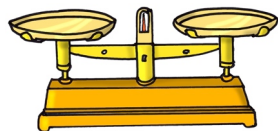


# Les masses



Pour trouver combien pèse un objet , on utilise une balance et des poids.




La balance




Les poids

Le gramme est l'unité de masse .  $\longrightarrow$  1 gramme s'écrit 1 g .

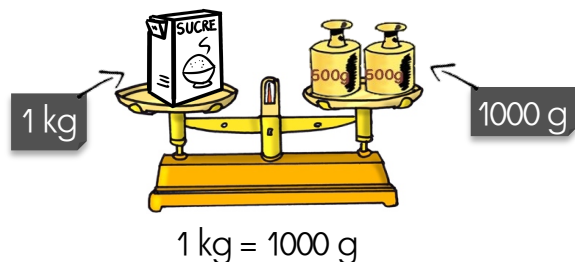


Cette cocotte pèse 6 g .



Ce pot pèse 250 g .


La masse d'un objet peut se mesurer en grammes ou en kilogrammes.  
1 kilogramme s'écrit 1 kg .



# Les masses



Pour trouver combien pèse un objet , on utilise une balance et des poids.




La balance




Les poids

Le gramme est l'unité de masse .  $\longrightarrow$  1 gramme s'écrit 1 g .



Cette cocotte pèse 6 g .



Ce pot pèse 250 g .

La masse d'un objet peut se mesurer en grammes ou en kilogrammes.  
1 kilogramme s'écrit 1 kg .

