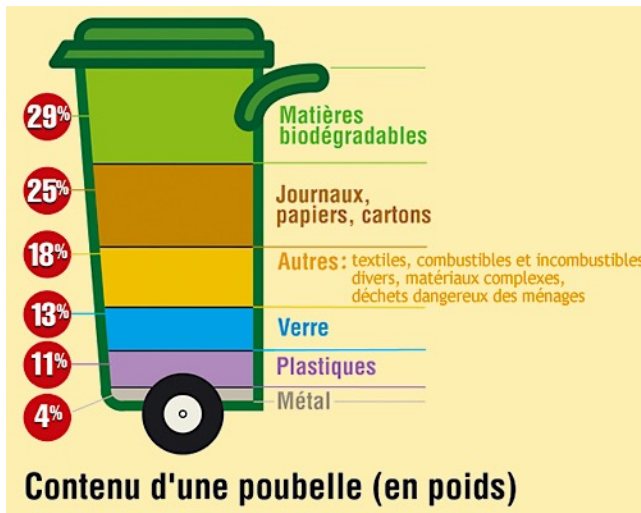


GEOGRAPHIE 6 : Les déchets

A- Des déchets en excès !

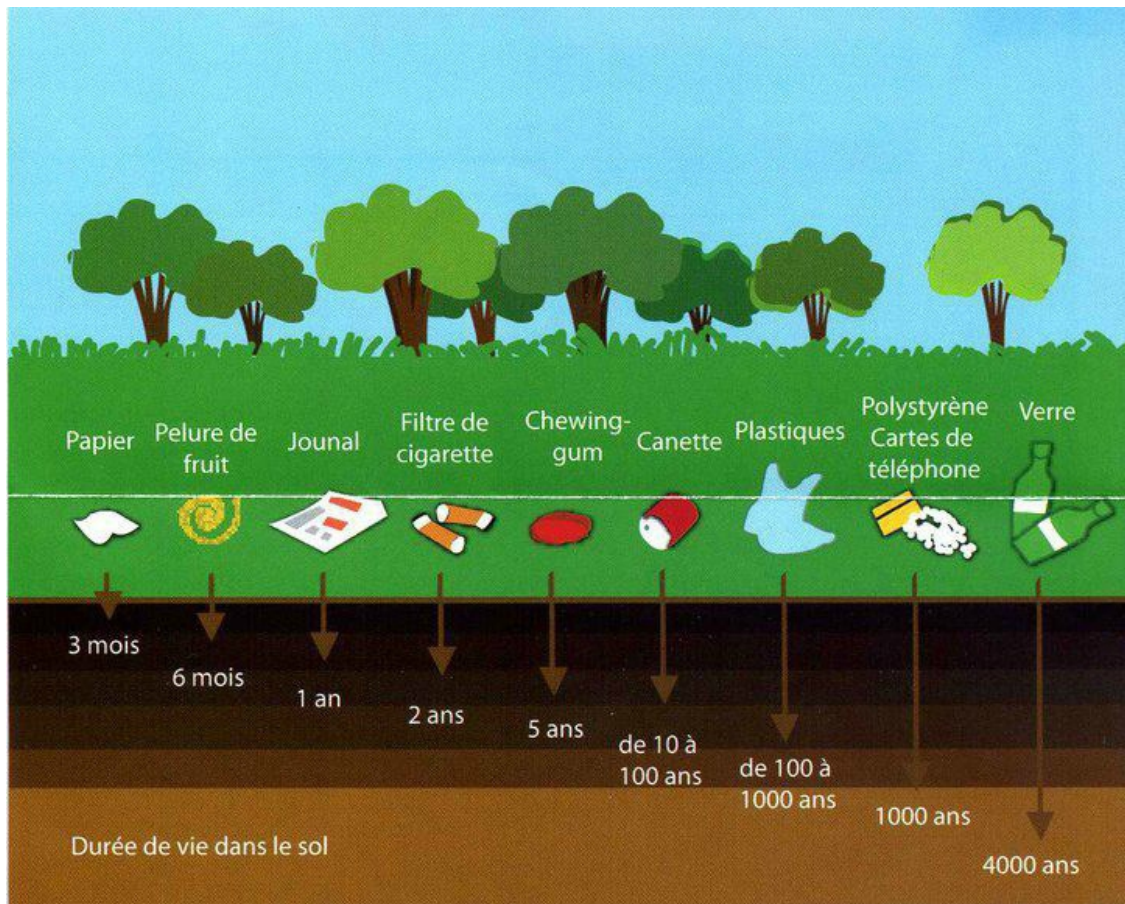


1) Quels déchets produisons-nous au quotidien ?

-
-
-
-
-

2) Quels déchets sont les plus nombreux dans nos poubelles ?

3) Quels sont les déchets les moins nombreux ?



4) De quelle catégorie de déchets fait partie une canette ? Si on la jette dans la nature, en combien de temps va-t-elle disparaître ?

5) Qui suis-je ?

- On me colle n'importe où et pourtant je mets 5 ans pour disparaître : _____

- Je suis utile pour transporter des objets et je mets parfois 1000 ans pour disparaître : _____

- On me lit en 2 heures et je nuis durant 1 an : _____

GEOGRAPHIE 6 : Les déchets

B- La collecte des déchets



Que font ces hommes ? _____

Quels déchets collectent-ils ?

– Photo 1 : _____

– photo 2 : _____

Par qui sont-ils payés ? _____

Où vont ces déchets après avoir été collectés ? _____

GEOGRAPHIE 6 : Les déchets

B- La collecte des déchets



Que font ces hommes ? _____

Quels déchets collectent-ils ?

– Photo 1 : _____

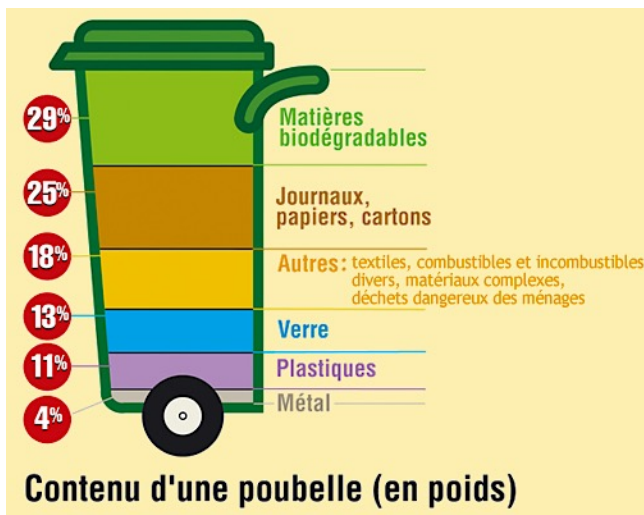
– photo 2 : _____

Par qui sont-ils payés ? _____

Où vont ces déchets après avoir été collectés ? _____

GEOGRAPHIE 6 : Les déchets

A- Des déchets en excès !

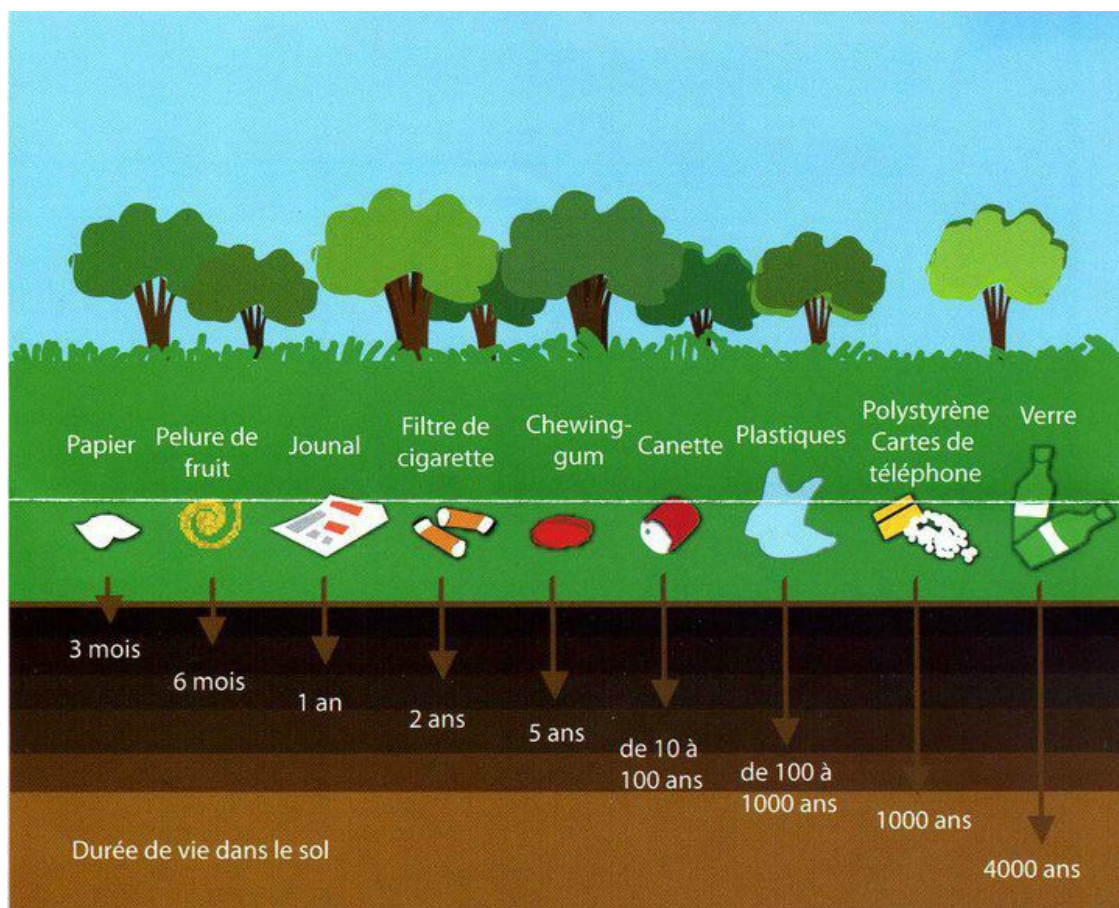


1) Quels déchets produisons-nous au quotidien ?-

- **Matières biodégradables**
- **journaux, papiers, cartons...**
- **verre**
- **plastiques**
- **métal**

2) Quels déchets sont les plus nombreux dans nos poubelles ? **Les matières biodégradables**

3) Quels sont les déchets les moins nombreux ? **Les métaux**



4) De quelle catégorie de déchets fait partie une canette ? Si on la jette dans la nature, en combien de temps va-t-elle disparaître ? **Catégorie des métaux .Elle disparaît entre 10 et 100 ans**

5) Qui suis-je ?

- On me colle n'importe où et pourtant je mets 5 ans pour disparaître : **le chewing-gum**
- Je suis utile pour transporter des objets et je mets parfois 1000 ans pour disparaître : **le sachet plastique**
- On me lit en 2 heures et je nuis durant 1 an : **le journal**

GEOGRAPHIE 6 : Les déchets

B- La collecte des déchets



Que font ces hommes ? _____

Quels déchets collectent-ils ?

– Photo 1 : _____

– photo 2 : _____

Par qui sont-ils payés ? _____

Où vont ces déchets après avoir été collectés ? _____

GEOGRAPHIE 6 : Les déchets

B- La collecte des déchets



Que font ces hommes ? **Ils collectent les déchets.**

Quels déchets collectent-ils ?

– Photo 1 : **les ordures ménagères**

– photo 2 : **les déchets recyclables**

Par qui sont-ils payés ? **Par les mairies.**

Où vont ces déchets après avoir été collectés ? **Dans une déchetterie ou dans un centre de tri/recyclage.**