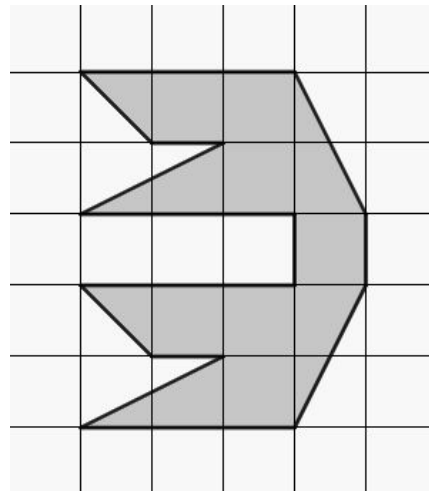
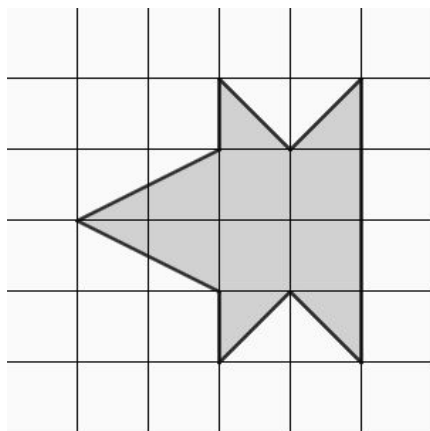
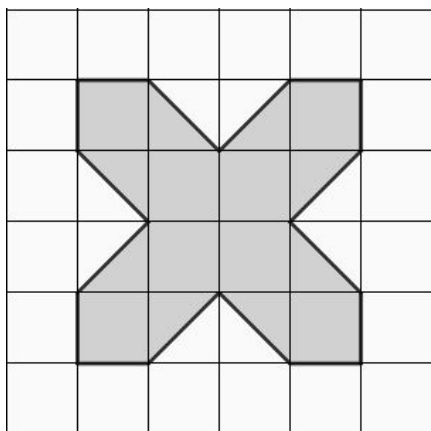


Nom et prénom

Date

Entrainement avant l'évaluation GEOM 8

Exercice n°1 : Trouve les axes de symétrie de chaque figure et trace-les. Les figures peuvent avoir un ou plusieurs axes de symétrie.



Exercice n°2 : reproduis cette figure pour que la droite (d) soit un axe de symétrie.

