








QUELLE FAMILLE DE MATÉRIAUX (2) ?

Pour chacun de ces objets, complète le tableau en indiquant le matériau qui le compose et la famille de ce matériau. Tu peux t'aider, pour cela, de la fiche activité 1.

| OBJET | MATÉRIAU | FAMILLE DE MATÉRIAUX |
|---|----------------|---|
|  | Bois | Organique naturel d'origine végétale |
|  | Papier, carton | Organique naturel d'origine végétale |
|  | Céramique | Minéraux |
|  | Acier | Métallique |
|  | Plastique | Organique synthétique |
|  | Laine | Organique naturel d'origine animale |
|  | Verre | Minéraux |