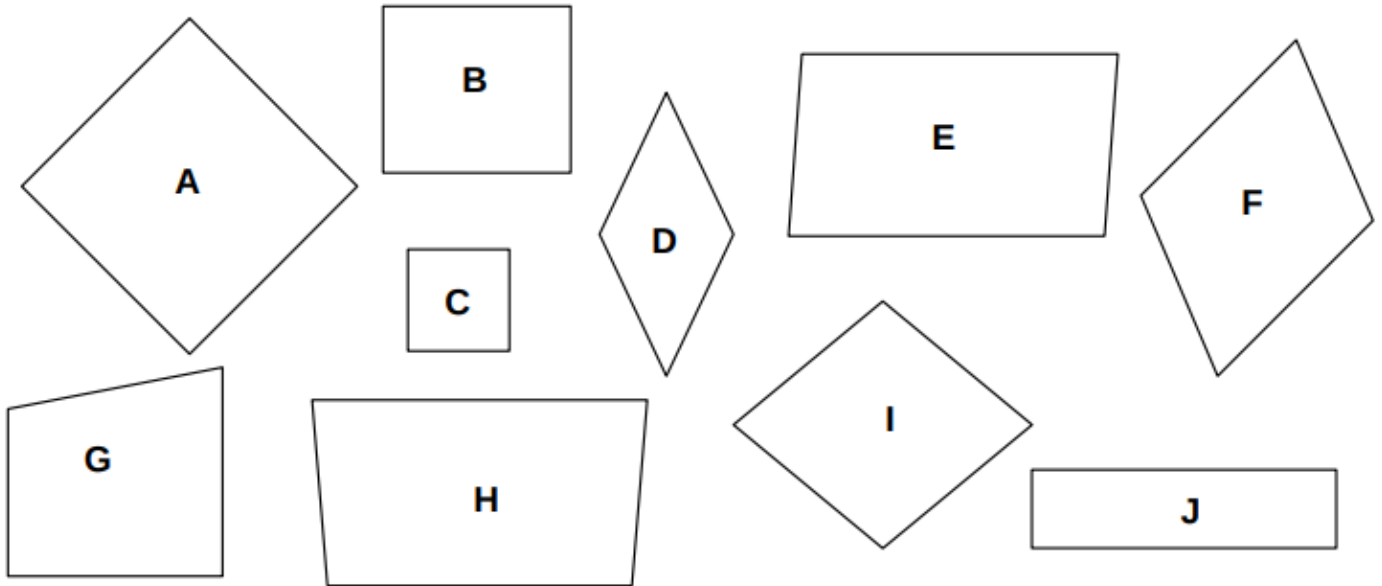


Les quadrilatères particuliers

Exercices d'entraînement

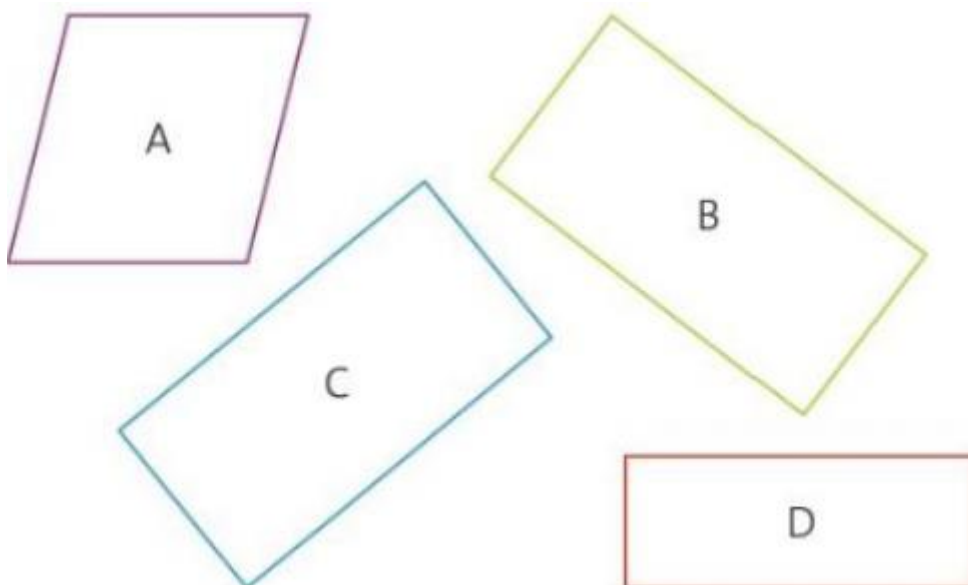
CM1

Exercice 1 : Classe ces figures dans le tableau ci-dessous et code les figures.

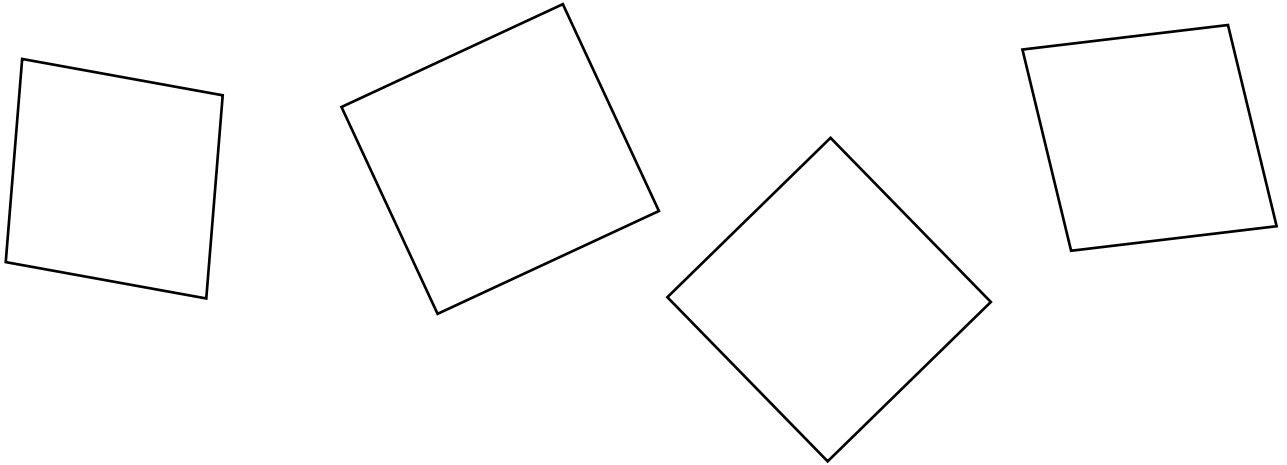


carrés	rectangles	losanges	trapèzes	parallélogrammes

Exercice 2 : Parmi ces quadrilatères, colorie le(s) parallélogramme(s) en vert et le(s) rectangle(s) en bleu.



Exercice 3 : Parmi ces quadrilatères, colorie les losanges en orange et les carrés en jaune.



Exercice 4 : Qui suis-je ?

Mes côtés sont parallèles et égaux deux à deux. Je n'ai pas d'angle droit.

Je suis

Mes 4 côtés sont égaux et j'ai 4 angles droits.

Je suis

Deux de mes côtés sont parallèles.

Je suis

Exercice 5 : Trace les figures géométriques demandées.

➤ Trace un rectangle de 4 cm de largeur et de 7 cm de longueur.

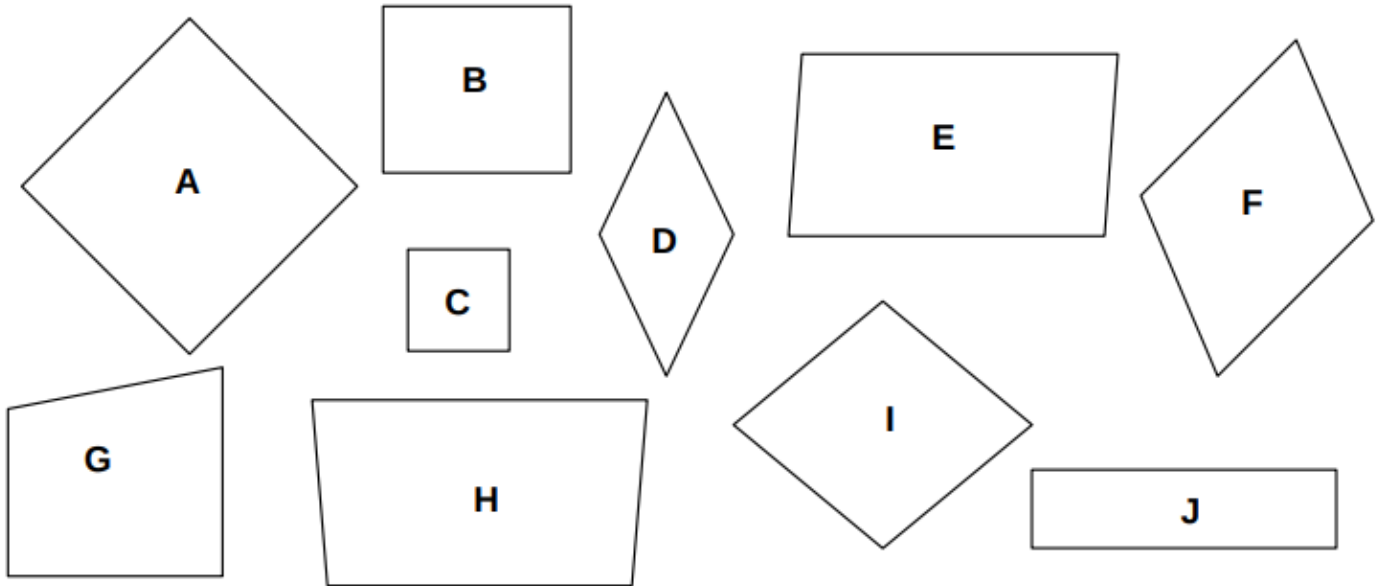
➤ Trace un carré de 6 cm de côté.

Les quadrilatères particuliers

Exercices d'entraînement - correction

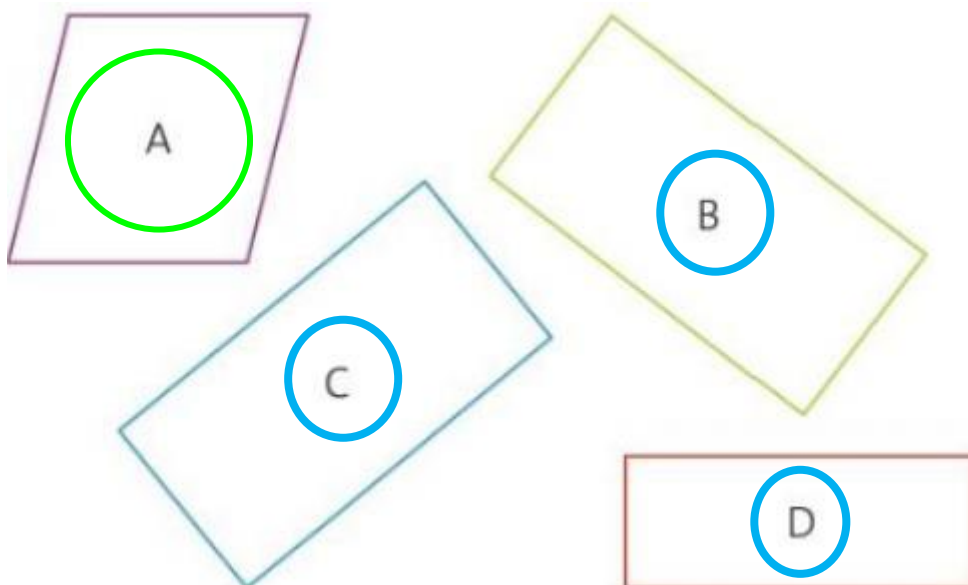
CM1

Exercice 1 : Classe ces figures dans le tableau ci-dessous et code les figures.

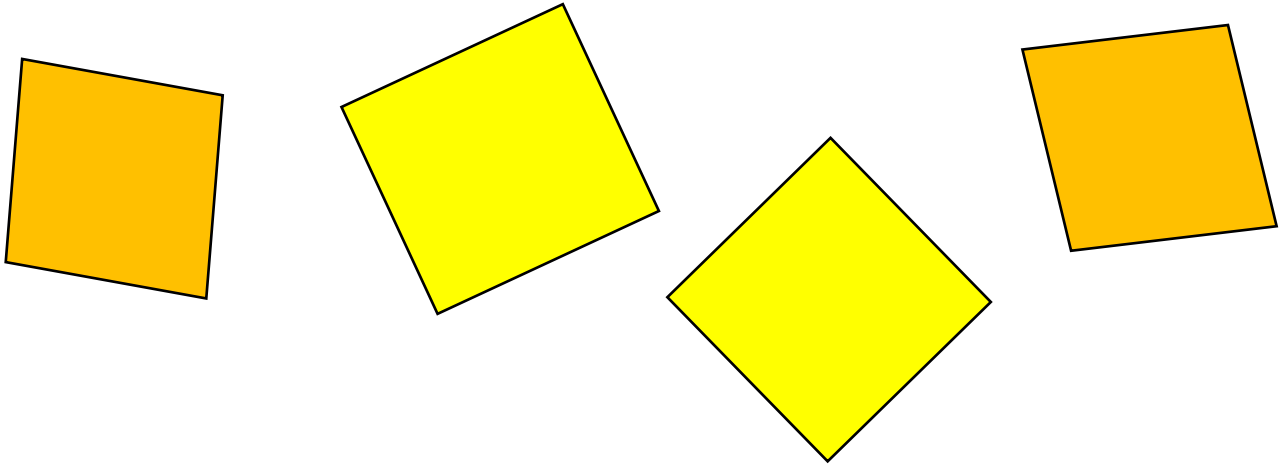


carrés	rectangles	losanges	trapèzes	parallélogrammes
A C	B J	D I	H	E F G

Exercice 2 : Parmi ces quadrilatères, colorie le(s) parallélogramme(s) en vert et le(s) rectangle(s) en bleu.



Exercice 3 : Parmi ces quadrilatères, colorie les losanges en orange et les carrés en jaune.



Exercice 4 : Qui suis-je ?

Mes côtés sont parallèles et égaux deux à deux. Je n'ai pas d'angle droit.

Je suis un losange.

Mes 4 côtés sont égaux et j'ai 4 angles droits.

Je suis un carré.

Deux de mes côtés sont parallèles.

Je suis un parallélogramme.

Exercice 5 : Trace les figures géométriques demandées.

➤ Trace un rectangle de 4 cm de largeur et de 7 cm de longueur.

➤ Trace un carré de 6 cm de côté.