

Prénom :

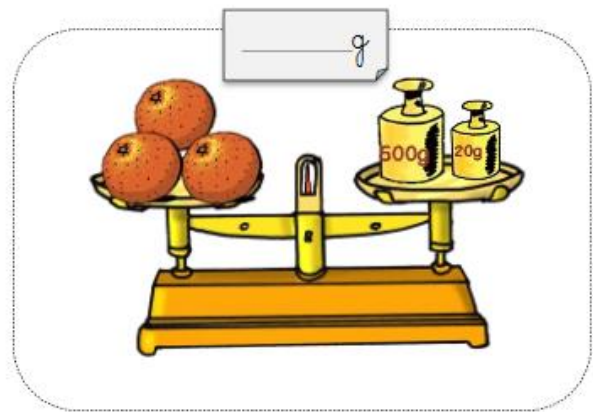
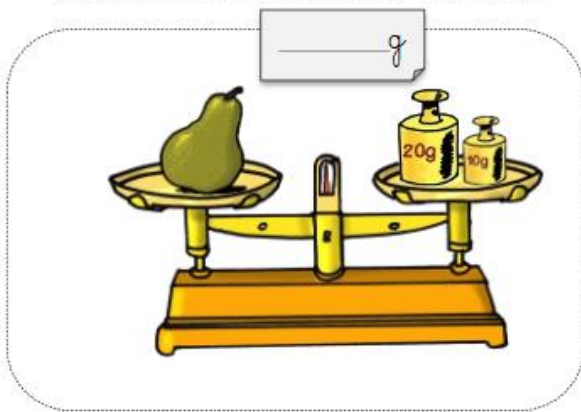

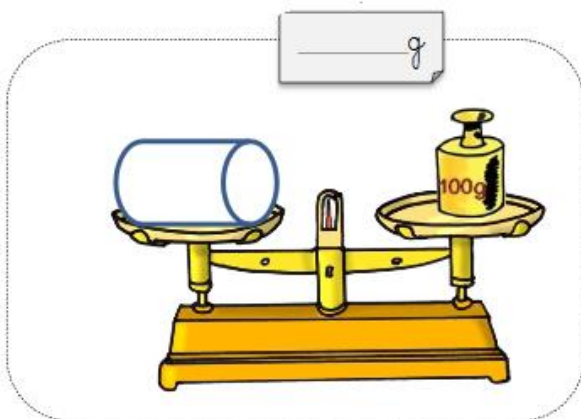
Date :

Mesures et Grandeurs : Evaluation - Les masses et unités de grandeurs

1) Je colorie la bonne réponse.

	g	kg		g	kg		g	kg
	g	kg		g	kg		g	kg

2) Je calcule la masse de chaque objet.



3) Recopie chaque mesure dans la ligne qui convient

40 kg – 15 euros – 3 L – 69 kilomètres – 6 g – 15 Litres – 6 m – 50 c – 20 L – 200 gammes – 10 € - 5 cm

Masse	Longueur	Contenance	Prix