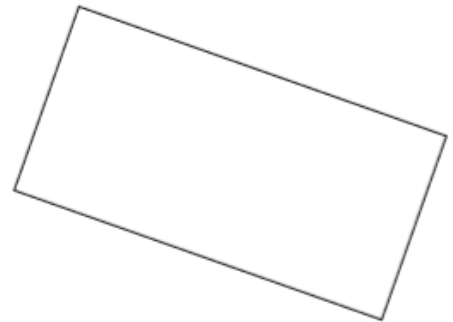

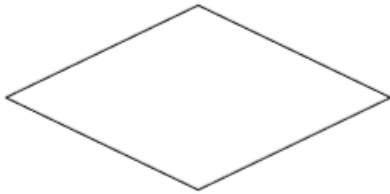


Prénom :

Date :

MATHÉMATIQUES

- 1 Repère et code les angles droits. Repasse en vert les côtés de même longueur.

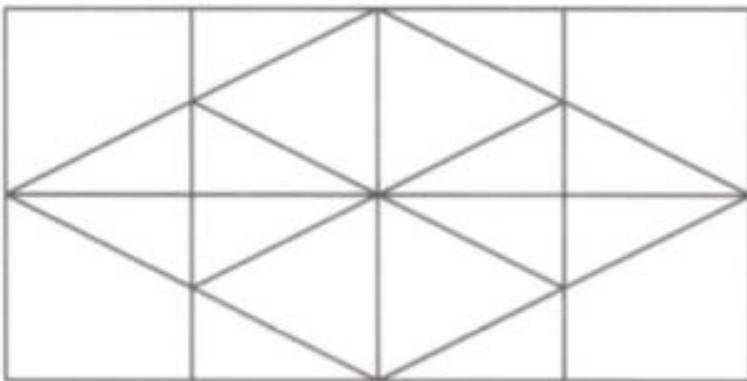


Complète ce tableau en écrivant oui ou non dans chaque case.

	carré	rectangle	losange
nombre d'angles droits	_____	_____	_____
nombre de côtés de même longueur	_____	_____	_____

- 2 Trouve le nombre de carrés, rectangle et losange que contient cette figure.

Complète le cadre.



Cette figure contient :

_____ carrés.

_____ rectangles.

_____ losanges.