

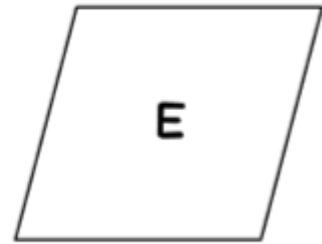
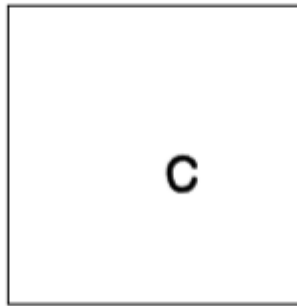
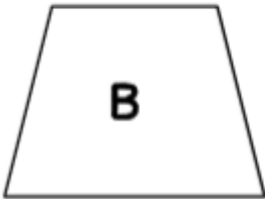
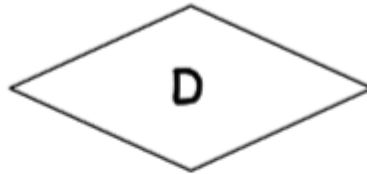
Prénom :

Date :

MATHÉMATIQUES

1

Observe les polygones, marque les angles droits et complète le tableau.



les carrés	les rectangles	les losanges

2

Avec ta règle et ton équerre, construis un carré et un rectangle.

le carré

le rectangle

3

Complète la phrase.

Certains triangles sont particuliers parce qu'ils ont un

_____.

On les appelle les triangles _____.

4

À l'aide de ta règle et de ton équerre, construis les triangles demandés.

un triangle rectangle

un côté de 3 cm

un triangle rectangle avec un côté de 4 cm