

Prénom : .....

Date : .....

# MATHÉMATIQUES

1

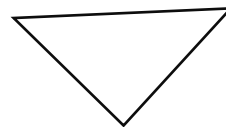

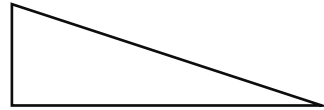

Relie la définition et la figure qui vont ensemble.

J'ai 4 côtés de même longueur et 4 angles droits.

Mes côtés opposés sont de même longueur et j'ai 4 angles droits.

J'ai 3 côtés.

J'ai 3 côtés et un angle droit.



2

Colorie les figures ci-dessous en suivant la légende.

- les carrés en rouge
- les rectangles en bleu
- les triangles rectangles en violet
- les autres triangles en rose

