

Prénom :

Date :


MATHÉMATIQUES

Je connais les caractéristiques de quelques polygones particuliers : le carré, le rectangle, le triangle rectangle, le triangle.

Je sais reproduire un carré, un rectangle, un triangle, un triangle rectangle sur papier quadrillé et pointé.

1

Observe ces figures géométriques et réponds aux questions.



Comment as-tu reconnu les triangles ?

.....

Qu'est ce que toutes les autres figures ont en commun ?

.....


L'un des triangles est différent des autres. Pourquoi ?

Colorie-le en vert.

.....

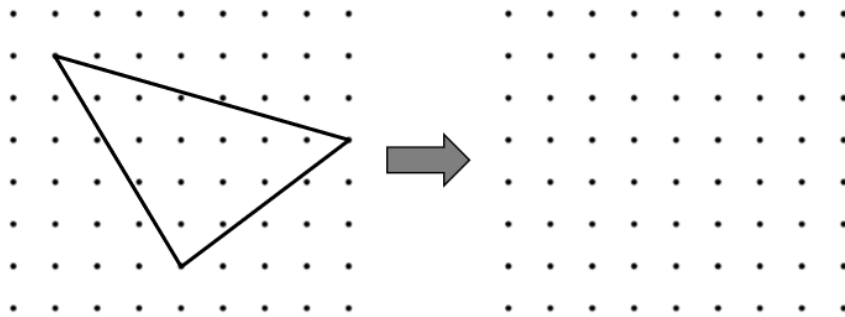
2

Trace un carré, un rectangle et un triangle rectangle.



3

Reproduis ce triangle à l'aide de ta règle et de ton équerre.



4

Relie la définition et la figure qui vont ensemble.

J'ai 4 côtés de même longueur et 4 angles droits.

Mes côtés opposés sont de même longueur et j'ai 4 angles droits.

J'ai 3 côtés.

J'ai 3 côtés et un angle droit.

