

Prénom :

Date :

MATHÉMATIQUES

Je connais les caractéristiques de quelques polygones particuliers : le carré, le rectangle, le triangle rectangle, le triangle, le losange.

Je sais construire un carré, un rectangle, un triangle, un triangle rectangle sur papier uni.

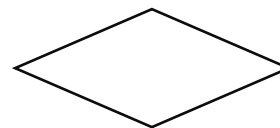

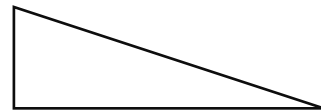
1 Relie la définition et la figure qui vont ensemble.

J'ai 4 côtés de même longueur et 4 angles droits.

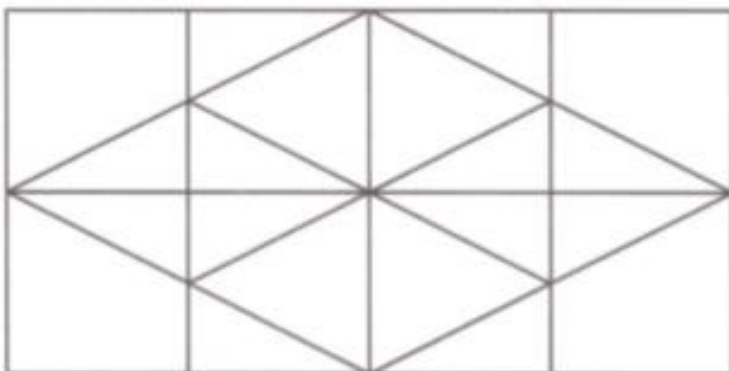
Mes côtés opposés sont de même longueur et j'ai 4 angles droits.

J'ai 4 côtés de même longueur.

J'ai 3 côtés et un angle droit.



2 Observe cette figure et complète le cadre.



Cette figure contient :

_____ carrés.

_____ rectangles.

_____ losanges.

Avec ta règle et ton équerre, trace les figures géométriques demandées.

le carré

le rectangle

un triangle rectangle avec un côté de 3 cm