



1

Compte le nombre total de vaisseaux en réalisant des paquets de 10.



Il y a vaisseaux.

Représente le nombre que tu as trouvé en utilisant  , et




Complète le tableau suivant.


c	d	u

1

Compte le nombre total de vaisseaux en réalisant des paquets de 10.



Il y a vaisseaux.

Représente le nombre que tu as trouvé en utilisant  , et



Complète le tableau suivant.

c	d	u