

Percevoir et reconnaître l'alignement et l'angle droit

Cherchons

Lisa et Rémi jouent au morpion. Pour gagner, il faut aligner 3 croix ou 3 ronds.


J'ai les ronds, c'est moi qui ai gagné !



- Qui a raison ?

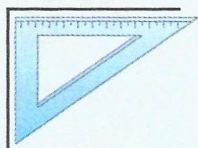
Je retiens

- Trois éléments sont **alignés** s'ils sont situés sur la **même droite**.

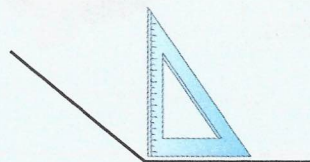


Les points A, B et C sont alignés parce qu'ils sont situés sur la même droite.

- Pour savoir si un **angle est droit**, je vérifie avec un **gabarit** ou une **équerre**.



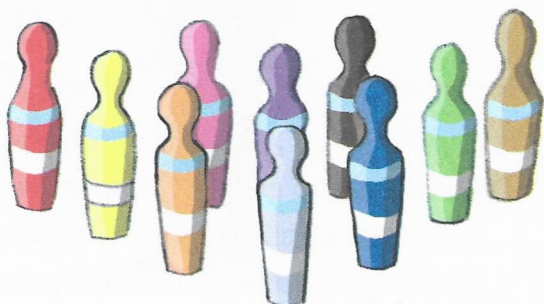
C'est un angle droit.



Ce n'est pas un angle droit.

Je m'entraîne

- 1 Entoure 4 quilles alignées.



- 2 Entoure en bleu trois points alignés, puis trois autres en vert.

