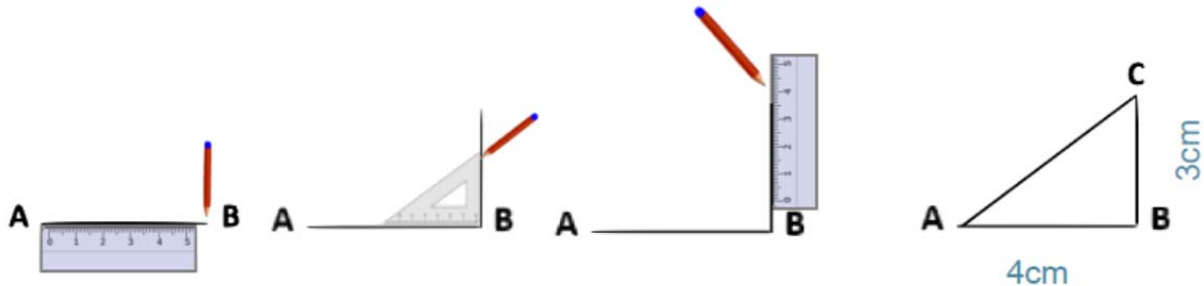


## G3m 6 « Tracer les triangles »

### 1. Tracer un triangle rectangle

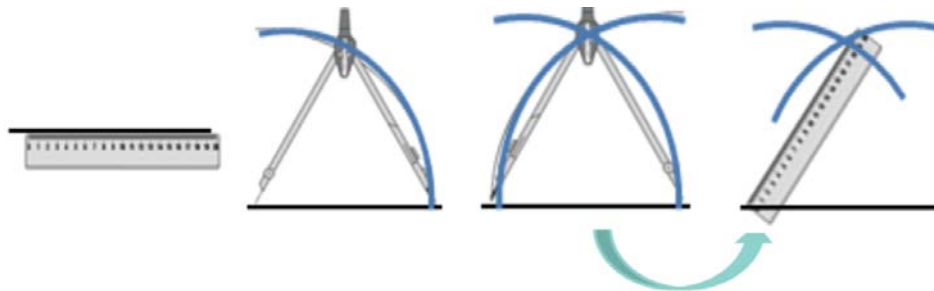
Pour construire un triangle rectangle, on utilise une équerre et une règle.



### 2. Tracer un triangle

Pour tracer un triangle dont on connaît les mesures ou un triangle isocèle, quelconque ou équilatéral, on peut utiliser la règle et le compas également.

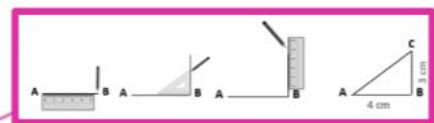
Pour reproduire un triangle, je dois tracer un côté, puis les deux autres en prenant les mesures des longueurs à l'aide de mon compas.



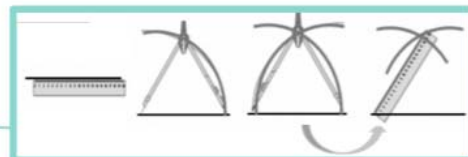
Il faut une règle, une équerre, un compas.

Tracer les triangles

Le triangle rectangle



Le triangle au compas



Vérifie tes connaissances !

*Pour t'assurer que tu as bien compris ta leçon, et pour l'apprendre, tu peux essayer de répondre à ces questions et/ou essayer de faire cette activité interactive.*

- Qu'est-ce qu'un triangle ?
- Quels instruments faut-il pour tracer un triangle rectangle ?
- Quels instruments faut-il pour tracer un triangle équilatéral ?
- Entraîne-toi à tracer des triangles rectangles et équilatéraux.

